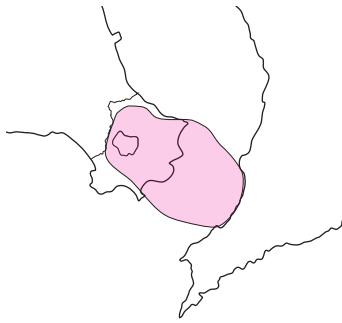


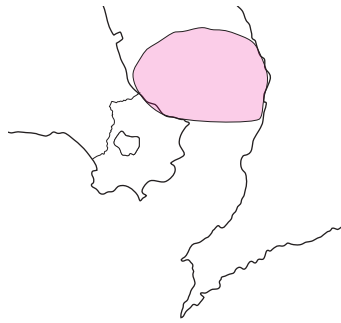
令和3年度 いぶすきジュニア検定（小学生用）

【指宿市の概要】

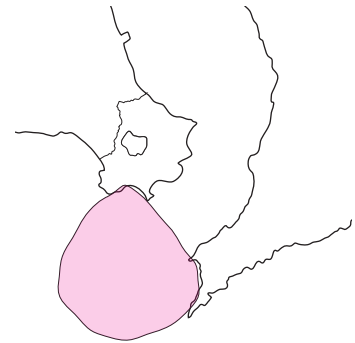
1. 阿多カルデラの^{あた}推定位置^{すいてい}は次のどれでしょう。



①



②



③

2. 指宿市の^{めんせき}面積は次のどれでしょう。

① 129.01km²

② 149.01km²

③ 169.01km²

3. 指宿市では「市の花」を決めていますが、それは次のどれでしょう。

① ヒマワリ

② チューリップ

③ ハイビスカス

4. 指宿市では「市の魚」を決めています^{さかな}が、それは次のどれでしょう。

- ① カンパチ
- ② カツオ
- ③ マグロ

5. 指宿市は、池田湖^{いけだこ}や開聞岳^{かいもんだけ}など鹿児島県を代表する美しい自然に恵まれ、その大部分は国立公園^{こくりつこうえん}に指定されています。その名称は次のどれでしょう。

- ① 霧島錦江湾国立公園^{きりしまきんこうわん}
- ② 魚見岳阿多カルデラ国立公園^{うおみだけあた}
- ③ 池田湖開聞岳国立公園^{いけだこかいもんだけ}



【多彩な大自然】

6. 池田湖の北西には高さ200～300mの崖^{がけ}があります。これは約10万年前の大噴火^あでできた阿多カルデラ^{あだ}の外輪山^{がいりんざん}にあたりますが、この崖の名前は次のどれでしょう。

- ① 鬼門崖
- ② 鬼門山
- ③ 鬼門平



7. 魚見岳は指宿市の市街地が一望できる絶景スポットですが、魚見岳の写真として正しいものは次のどれでしょう。



①



②



③

8. 知林ヶ島に現れる砂の道の長さはおよそ何 m でしょう。

- ① 600m
- ② 800m
- ③ 1,200m



9. 山川福元周辺でしか採れない貴重な黄色い石は、墓石や石垣などを作るために使われましたが、この石の名前は次のどれでしょう。

- ① 福元石
- ② 山川石
- ③ 成川石



10. 川尻海岸の砂には、開聞岳の噴火によってもたらされたカンラン石という鉱物がたくさん含まれています。「火山の宝石」とよばれるその鉱物の英語名は次のどれでしょう。

- ① オニキス
- ② オリビン
- ③ オブシディアン



【歴史発見】


11. 橋牟礼川遺跡は国の史跡に指定されていますが、橋牟礼川遺跡の発掘調査でわかったことで正しいのは次のどれでしょう。

- ① 縄文土器が弥生土器より古いことを証明した。
- ② 日本で一番南にある古墳が発見された。
- ③ 世界最大の土器が発見された。



12. ヨーロッパに初めて紹介された日本の町は山川です。これを紹介したのは500年以上前に山川に滞在したポルトガル人ですが、彼の名前は次のどれでしょう。

- ① ウォルター・アルバレス
- ② ルイス・アルバレス
- ③ ジョルジェ・アルバレス



13. さつまいもを琉球から初めて持ち帰り、まず自分でさつまいもを栽培してから一軒一軒、個別に栽培方法を広めた人物の名前は次のどれでしょう。

- ① 前田勘助
- ② 前田利右衛門
- ③ 前田利家



14. 大河ドラマで有名になった篤姫は、江戸幕府の第13代将軍の奥さんになったお姫様ですが、このお姫様のお父さんのお墓がある校区は次のどれでしょう。

- ① 今和泉
- ② 川尻
- ③ 山川



【文化に触れる】

15. 毎年1月7日に浜兎ヶ水で行われる伝統行事では、数え年15歳の男の子が交代で太い竹を担ぎ、見物人の前でぐるぐる舞ったあと、竹を地面に放り投げます。この行事の写真として正しいものは次のどれでしょう。



①



②



③

16. ^{としなが}利永で1月に行われる伝統行事メンドンでは、1年間健康でいられるように、お面をかぶったメンドンから顔に塗られるものは次のどれでしょう。

- ① ヘドロ
- ② ヘグロ
- ③ おしろい



【指宿の恵み】

17. ^{とうせんきょう}唐船狭は、そうめん流しで有名ですが、ここではじめて開発されたものは次のどれでしょう。

- ① ニジマスの塩焼き
- ② 回転式そうめん流し器
- ③ 冷やしそうめん



18. 山川みなと祭りは、あるものの生産量が日本一になった昭和9年に始まりました。あるものとは次の何でしょう。

- ① オクラ
- ② かつお節
- ③ そらまめ



19. 1月の第2日曜日に日本で一番早く開かれるあるスポーツの大会の名前は次のどれでしょう。

- ① いぶすきフラフェスティバル
- ② いぶすき菜の花マラソン
- ③ いぶすき菜の花マーチ



20. 毎年9月に指宿地域で開催される指宿温泉祭りの「みこし」がスタートする場所は次のうちどれでしょう。

- ① 殿様湯
- ② 揖宿神社
- ③ 湯権現

